



CRECHE ESCOLA SEMENTINHA

AGENDA DE ATIVIDADES- ENSINO FUNDAMENTAL

PROFESSORAS: Eloisa, Sânzya e Nádya Rosa

PERÍODO: 19 a 23/10

DATA	SÉRIE: 1º ANO	ATIVIDADES
19/10 Segunda- feira	<b>COMPONENTE CURRICULAR:</b>  Matemática  Língua Portuguesa	<b>ASSUNTO:</b>  Situações de multiplicação. <b>SALA:</b> Realizar atividade página 175. <b>CASA:</b> Página 176.  Fábula: A pomba e a formiga. <b>SALA:</b> Realizar a leitura em voz alta da fábula com os alunos acompanhando, pausadamente, cada entonação da página 41. Realizar a atividade da pág. 42 (Caderno do leitor). <b>CASA:</b> Cópia da página 43 (Caderno do leitor).
20/10 Terça - feira	<b>COMPONENTE CURRICULAR:</b>  Matemática  Língua Portuguesa  Geografia	<b>ASSUNTO:</b>  Noção de dobro <b>SALA:</b> O jogo do Stop do Dobro. <b>CASA:</b> Treinar o jogo com a família.  Ouvir e escrever sílabas <b>SALA:</b> Solicitar que os alunos pausadamente o nome de cada esporte. Livro página 147 e em seguida executar atividade p. 148. <b>CASA:</b> Atividade Xerocopiada.  A quadra de esportes <b>SALA:</b> Livro didático Página 124. <b>CASA:</b> No caderno representar, através de desenho e escrita, sobre o tema: O que você costuma fazer no pátio da escola (caderno).
21/10 Quarta-feira	<b>COMPONENTE CURRICULAR:</b>  Matemática	<b>ASSUNTO:</b>  Noção de dobro <b>SALA:</b> O jogo do Stop do Dobro. Realizar atividade página 177. <b>CASA:</b> Atividade Xerocopiada.

	Língua Portuguesa	<p>Separação de sílabas.  <b>SALA:</b> Executar atividade da página 149.  <b>CASA:</b> Atividade Xerocopiada.</p>
	Geografia	<p>A quadra de esportes.  <b>SALA:</b> Livro didático página 125  <b>CASA:</b> Realizar o desenho do Pátio da escola (identificando cada espaço).</p>
<b>22/10</b> Quinta-feira	<b>COMPONENTE CURRICULAR:</b>	<b>ASSUNTO:</b>
	Geografia	<p>A sala de aula.  <b>SALA:</b> Livro didático páginas 126.  <b>CASA:</b> Pesquisar e escrever, no caderno, regras de convívio de uma sala de aula.</p>
	Língua Portuguesa	<p>Gênero textual Jogos Olímpicos e Paraolímpicos.  <b>SALA:</b> Executar atividade dá página 150.  <b>CASA:</b> Releitura da página 150.</p>
	Matemática	<p>Situações de Divisão/metade.  <b>SALA:</b> Explicação em sala.  <b>CASA:</b> página 178.</p>
<b>23/10</b> Sexta-feira	<b>COMPONENTE CURRICULAR:</b>	<b>ASSUNTO:</b>
	Matemática	<p>Noção de metade  <b>SALA:</b> Explorar situações sobre divisão/metade.  <b>CASA:</b> Atividade Xerocopiada.</p>
	Língua Portuguesa	<p>Texto instrucional Olimpíada esportiva.  <b>SALA:</b> Livro páginas 150 e 151.  <b>CASA:</b> Atividade Xerocopiada.</p>
	Geografia	<p>A sala de aula (Regras)  <b>SALA:</b> Livro didático, página 127.  <b>CASA:</b> Realizar um desenho da sua sala de aula.</p>

**Observação:**

- 1. Em todas as atividades realizadas, coloque a data. Isso facilitará as nossas correções.**



São Luís, \_\_\_\_\_ de \_\_\_\_\_ de 2020

1ºano \_\_\_\_ Ensino Fundamental

Professoras: Eloisa, Sânzya e Nádia Rosa

Nome:

### ATIVIDADE DE LÍNGUA PORTUGUESA

#### LEIA E RESPONDA O TEXTO ABAIXO :

A leoa

Estes são Lica e Leôncio.

Lica é uma linda leoa.

Lica está triste por que não tem juba como seu amigo Leôncio.

Leôncio é um valente leão.

Lica e Leôncio vivem juntos na selva.



Isabel Cristina S. Soares

- A leoa se chama: \_\_\_\_\_

- O leão se chama: \_\_\_\_\_

- Lica está triste por que não tem: \_\_\_\_\_

- Os leões vivem na: \_\_\_\_\_

- O que Leôncio é de Lica? \_\_\_\_\_



São Luís, \_\_\_\_\_ de \_\_\_\_\_ de 2020

1º ano \_\_\_\_ Ensino Fundamental

Professoras: Eloisa, Sânzya e Nádia Rosa

Nome:

ATIVIDADE DE LÍNGUA PORTUGUESA

LEIA E RESPONDA O TEXTO ABAIXO :

### A fada Sofia

Sofia é uma fada.

Ela faz muitas mágicas legais!

Fabiana vê a fada e pede:

— Você pode fazer a mágica do facão, Sofia?

A fada bate a varinha no facão e ele some.

O facão virou uma fumaça perfumada.

*Graça Boquet*



1) Quem é Sofia?

---

2) O que a fada Sofia faz?

---

3) Qual a mágica que Fabiana pede à Sofia para fazer?

---

4) O que o facão virou?

---



São Luís, \_\_\_\_\_ de \_\_\_\_\_ de 2020

1º ano \_\_\_\_ Ensino Fundamental

Professoras: Eloisa, Sânzya e Nádia Rosa


Nome: \_\_\_\_\_

### ATIVIDADE DE MATEMÁTICA

**RESOLVA AS SITUAÇÕES ENVOLVENDO A DIVISÃO ABAIXO:**

Represente estas divisões corretamente:

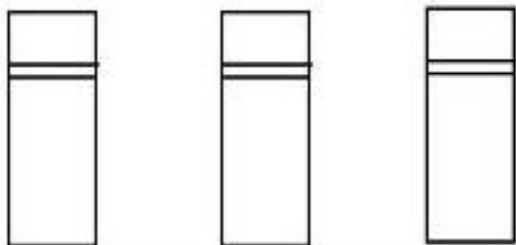
$$9 \div 3 = \underline{\quad}$$



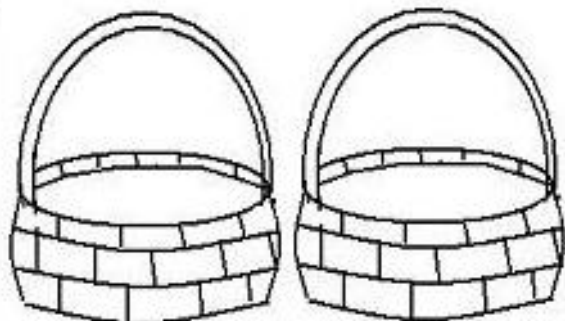

$$8 \div 2 = \underline{\quad}$$



$$15 \div 3 = \underline{\quad}$$



$$12 \div 2 = \underline{\quad}$$





São Luís, \_\_\_\_ de \_\_\_\_\_ de 2020  
1ºano \_\_\_\_ Ensino Fundamental  
Professoras: Eloisa, Sâzya e Nádia Rosa

Nome:

### ATIVIDADE DE LÍNGUA PORTUGUESA

•LEIA O TEXTO COM MUITA ATENÇÃO E DEPOIS RESPONDA AS QUESTÕES ABAIXO:

#### O cachorro de Alice

Alice tem um cachorro de  
raça.

O cachorro se chama Fumaça.

Fumaça gosta de passear com Alice.

Na rua, Fumaça é muito bravo. Se alguém caça de Alice,  
Ele logo começa a latir.

A criançada da vizinhança acha Fumaça um cachorro muito  
Valente.

(Lídia M. Morais)

1) Leia o texto com muita atenção e depois complete as frases:

- \_\_\_\_\_ tem um cachorro de raça.
- O cachorro se chama \_\_\_\_\_.
- \_\_\_\_\_ gosta de passear com \_\_\_\_\_.

2) Responda.

- Como é o cachorro fumaça?

---

---



São Luís, \_\_\_\_\_ de \_\_\_\_\_ de 2020  
1º ano \_\_\_\_ Ensino Fundamental  
Professoras: Eloisa, Sâzya e Nádia Rosa

Nome:

### ATIVIDADE DE MATEMÁTICA


### VAMOS REPARTIR?

A) Reparta em partes iguais 12 peixes em 4 aquários.




Em cada aquário haverá \_\_\_\_ peixes.

B) Reparta em partes iguais 25 balões entre 5 crianças.



Cada criança receberá \_\_\_\_ balões.

C) Reparta em partes iguais 20 cerejas em 4 tortas.



Em cada torta haverá \_\_\_\_ cerejas.